

الاسم العائلي والشخصي : التاريخ :

| إمضاء الإدارة | إمضاء الأب أو الولي | النقطة |
|---------------|---------------------|--------|
| | | 10 |

الثالثة ابتدائي

أصل بخط:

1

1.5

| | | |
|------------------------------|-----------------------|-------|
| سبعة آلاف ومئة وثلاثة وعشرون | <input type="radio"/> | 3 540 |
| 3 آلاف 5 مئات و4 عشرات | <input type="radio"/> | 7 123 |
| تسعة آلاف وست مئة وإثنا عشر | <input type="radio"/> | 4 301 |
| أربعة آلاف وثلاث مئة واحد | <input type="radio"/> | 9 612 |

أقارن بوضع الرمز المناسب : < أو > أو = مكان النقط:

2



986 1000

4 362 4 328

1000 + 400 + 50 + 2 1352

(2 x 1000) + 350 2350

1

أكمل:

3

1 000 + 7 =

..... + 400 + 20 + . = 6 429

8000 + 100 + 20 + 8 =

(. x) + (. x) + (. x) + . = 4 135

1



يمثل الجدول التالي عدد ممارسي بعض الرياضات :

4

| عدد الممارسين | اسم الرياضة |
|---------------|-------------|
| 6 000 | كرة القدم |
| 685 | الجي دو |
| 3 200 | كرة السلة |
| 1 400 | السباحة |
| 2 120 | الفروسية |

حدد الرياضة التي يمارسها أكبر عدد :

1

رتب الأعداد من الأصغر إلى الأكبر باستعمال الرمز المناسب :

أضع و أنجز.

5

$400 - 236$

$986 - 145$

$2\ 307 + 241$

$1\ 215 + 456$

دخلت السيدة مريم محلا تجاريا لبيع الملابس ومعها 400 درهم. فلاحظت الأثمنة التالية:

6

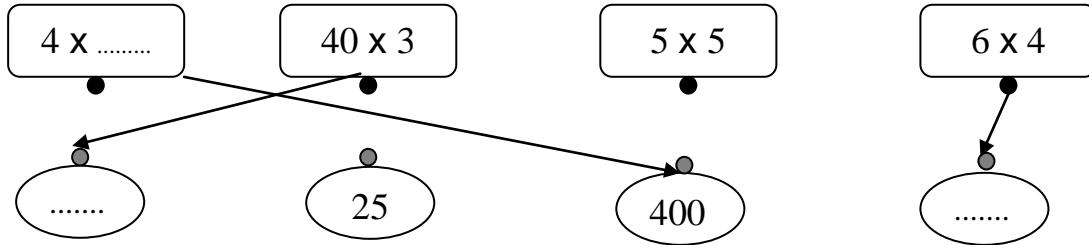
| السعة | سروال | قبعة | قميص | معطف |
|---------------|-----------|----------|-----------|-----------|
| الثلث بالدرهم | 175 درهما | 45 درهما | 150 درهما | 280 درهما |

هل تستطيع السيدة مريم شراء السروال والقميص بالمبلغ المتوفر لديها؟

1

أصل بخط أو أكمل.

7



1

أحول إلى الوحدة المطلوبة.

9

$1\text{ m} = \dots\dots\dots \text{ mm}$

$1\text{ m } 3\text{ dm} = \dots\dots\dots \text{ dm}$

$126\text{ cm} = \dots\dots \text{ m } \dots\dots \text{ dm } \dots\dots \text{ cm}$

$24\text{ dm} = \dots\dots\dots \text{ cm}$

أضع علامة أمام الجواب الصحيح :

8

$1\text{ m} = 100\text{ cm} \quad \square$

$1\text{ m} = 10\text{ cm} \quad \square$

رسم قطعة قياس طولها 6cm:

10

1

1

1


1.25

0.5

أرسم مستقيمين متعامدين.

11

0.5



ألاحظ ما يقوله كل طفل.

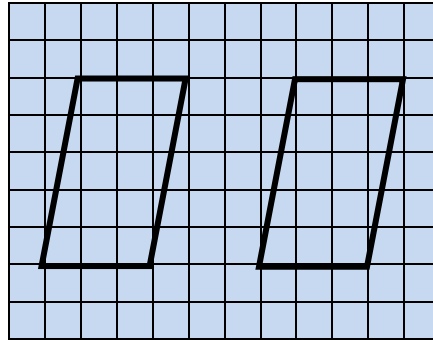
12

0.25

الشكلان غير متماثلين



محمد



الشكلان متماثلان



عمر

للمن منهما على صواب؟

أرسم مماثل الشكل بالنسبة للمستقيم الأسود.

13

0.5

